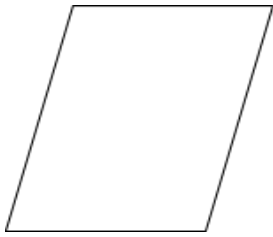


正多角形と円

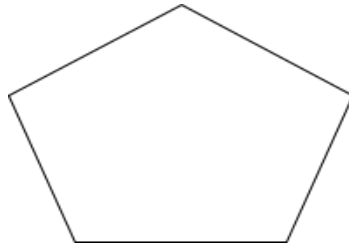
名前 ()

*思い出そう



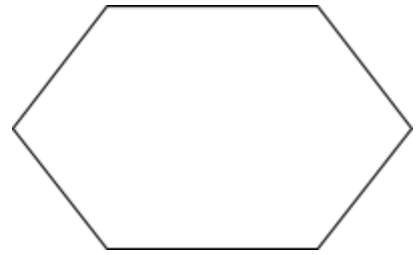
四角形

$180^\circ \times =$



五角形

$180^\circ \times =$



六角形

$180^\circ \times =$

今日のめあて

正多角形をかくときのきまりは？

◎

☆

図形	角の大きさの和(度)	一つの角の大きさ(度)	辺の数(本) くり返す回数	回す角度	
正三角形					
正方形					
正五角形					
正六角形					

ふり返り 今日の授業で分かったことや考えたこと、もっとやってみたいことなど